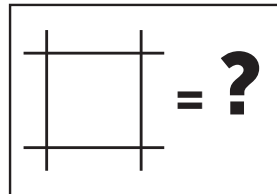
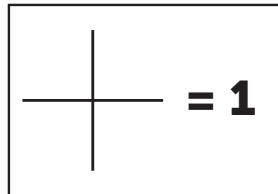
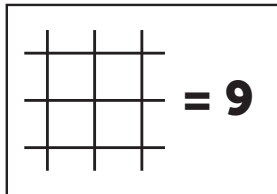




Pyetja 1

Zgjidhjeni detyrën!

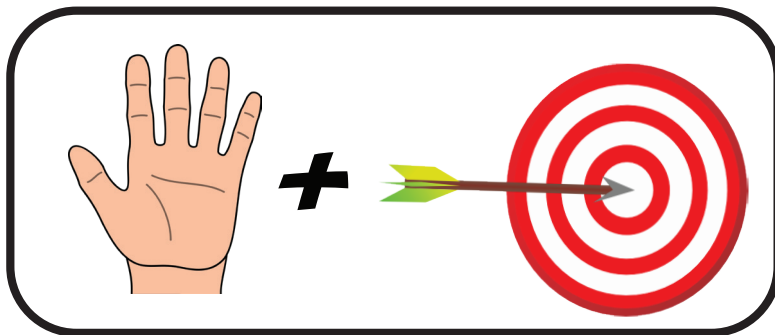
?= \_\_\_\_\_



Pyetja 2

Rebusi

Zgjidhja e rebusit:

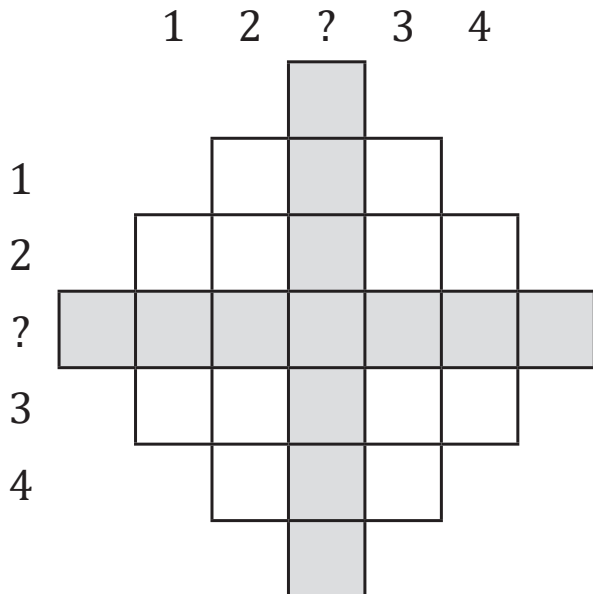


Diamanti magjik

Horizontalisht dhe vertikalisht

1. Mot
2. Enët për lule
3. Idhull i fiseve primitive
4. Ekip

?. \_\_\_\_\_



Pyetja 3

Pyetja 4

Është më i madh se...

Plotësojini kutizat me numrat prej 1-4 ashtu që të vlejë rregulli matematikor "është më i madh se", e cila është dhënë me shenjën ">". Çdo rresht dhe kolonë duhet t'i përfshijë numrat prej 1-4, kështu që numrat nuk mund të përsëriten as në rreshta as në kolona!

